


# ENIGME DU LUNDI

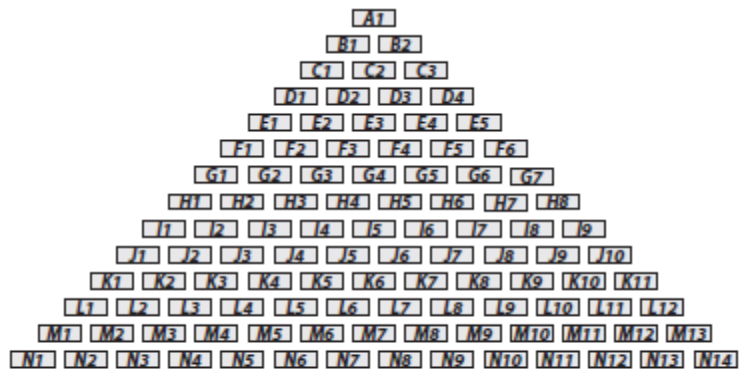
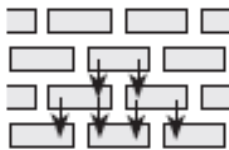
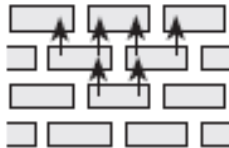
Des dominos sont disposés sur une table en formant un triangle de 14 lignes.

Quand on fait tomber un domino, c'est soit vers le sommet du triangle soit vers sa base et il entraîne alors dans sa chute tous les dominos qu'il touche et ainsi de suite.



*Vue en perspective*

Michaël fait tomber un seul domino ce qui entraîne la chute de 35 autres dominos exactement.



*Vue de dessus*

chaque domino est repéré par une lettre (ligne) et un numéro (numéro du domino dans la ligne)

**Quel domino Michaël a-t-il fait tomber en premier ?**

**S'il y a plusieurs possibilités, les donner toutes.**